

द्वितीय योगात्मक आकलन SA-2 2023-24

विषय – गणित	कक्षा – 2	दिनांक –
नाम –	रोल नं० –	प्राप्त ग्रेड –



1. खाली स्थान में अंकों को भरिए –



खाली स्थान भरें –







1			5		7			
		13				18		20
	22			26			29	
31			35			38		
		43		46				50
			54			58		
	62				67			
71		73		76				
			84			88		90
	92			95			99	
101				106				110
	112		114			118		



2. गिनिए और जोड़िए –

1)  +  =



2)  +  =



3)  +  =



4)  +  =



5)  +  =



3. गिनिए और घटाइए –

1)  -  =















2)  -  =

3)  -  =




4)  -  =

















5)  -  =

4. गिनती करके उपयुक्त संख्या पर घेरा बनाइए –

 	<p>10</p> <p>2 3</p>	 	<p>9</p> <p>4 8</p>
 	<p>6</p> <p>4 5</p>		<p>2</p> <p>1 3</p>
	<p>3</p> <p>1 9</p>	 	<p>6</p> <p>1 5</p>
 	<p>5</p> <p>7 6</p>	 	<p>9</p> <p>7 8</p>

5. आकृति की पहचान कर उपयुक्त रंग भरिए –

			
green	blue	red	yellow

अध्यापक टिप्पणी

.....

