

तृतीय योगात्मक आकलन SA-3 2023-24

कक्षा - 3

विषय - पर्यावरण अध्ययन

दिनांक -

नाम -

रोल नं. -

प्राप्त ग्रेड -

प्रश्न 1. पढाने का काम किया जाता है ।

(क) डॉक्टर द्वारा (ख) अध्यापक द्वारा (ग) पटवारी द्वारा (घ) मिस्त्री द्वारा ()

प्रश्न 2. किस साधन में अधिक सवारीयाँ बिठाई जा सकती हैं ।

(क) ऑटो (ख) कार (ग) साईकिल (घ) बस ()

प्रश्न 3. नीचे दिए गए संचार के साधन की पहचान कर नाम लिखो ।



.....



.....



.....



.....

प्रश्न 4. पुराने समय में संचार के किन-किन साधनों का उपयोग किया जाता था ?

.....

.....

प्रश्न 5. सड़क पार करते समय क्या-क्या सावधानी बरतनी चाहिए ? (कोई दो)

.....

.....

प्रश्न 6. टेलीविजन के क्या-क्या लाभ हैं ?

.....

.....

.....

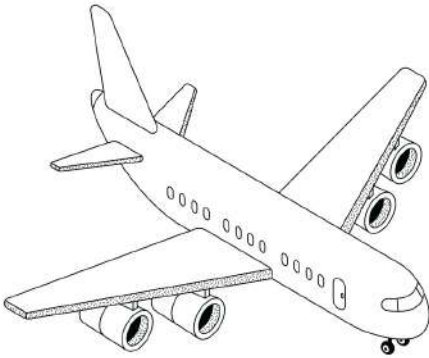
प्रश्न 7. रिक्त स्थानों की पूर्ति करो ।

(क) तिरंगे में रंग होते हैं । (तीन / पांच)


(ख) पूरा चाँद को दिखता है । (पूर्णिमा / अमवस्या)

(ग) सूर्य को उगता है । (प्रातः / सायं)


प्रश्न 8. निम्न यातायात के साधनों को पहचान कर उनके नाम लिखिए तथा उनमें सुन्दर-सुन्दर रंग भरिए ।




.....



.....



.....



.....

अध्यापक टिप्पणी

.....

.....