

## द्वितीय योगात्मक आकलन SA-2 (2024-25)

कक्षा - 1

विषय - गणित

दिनांक - .....

नाम - .....





रोल नं. - .....





प्राप्त ग्रेड - .....

प्रश्न 1. रिक्त स्थानों में अंक भरें।






<u>1</u>	—	<u>3</u>	—	—	<u>6</u>	—	<u>8</u>	—	<u>10</u>	—	—
<u>13</u>	—	—	<u>16</u>	—	<u>18</u>	—	—	<u>21</u>	<u>22</u>	—	<u>24</u>
<u>25</u>	—	<u>27</u>	—	<u>29</u>	—	—	<u>32</u>	—	—	—	<u>36</u>
<u>37</u>	<u>38</u>	—	—	<u>41</u>	—	—	<u>44</u>	—	—	—	<u>48</u>
<u>49</u>	<u>50</u>	—	—	—	—	—	—	—	—	—	—






प्रश्न 2. गिनकर संख्या लिखें।

	5
	
	
	

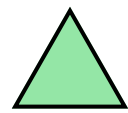


	
	
	
	

प्रश्न 3. निम्नलिखित का मिलान करें।

	5
	7
	6
	8
	9

	8
	6
	7
	5
	9






प्रश्न 4. सबसे लम्बी वस्तु को पहचानें एवं सही का निशान लगाएँ।




















प्रश्न 5. सही संख्या को पहचान कर उस पर गोला बनाएँ ।















	<input type="radio"/> 7	<input type="radio"/> 9	<input type="radio"/> 8
	<input type="radio"/> 8	<input type="radio"/> 9	<input type="radio"/> 5
	<input type="radio"/> 9	<input type="radio"/> 7	<input type="radio"/> 6
	<input type="radio"/> 7	<input type="radio"/> 8	<input type="radio"/> 9
	<input type="radio"/> 8	<input type="radio"/> 4	<input type="radio"/> 7

	<input type="radio"/> 9	<input type="radio"/> 8	<input type="radio"/> 7
	<input type="radio"/> 6	<input type="radio"/> 9	<input type="radio"/> 8
	<input type="radio"/> 7	<input type="radio"/> 9	<input type="radio"/> 8
	<input type="radio"/> 9	<input type="radio"/> 7	<input type="radio"/> 5
	<input type="radio"/> 5	<input type="radio"/> 4	<input type="radio"/> 7

प्रश्न 6. गिनकर जोड़ कीजिए ।

	+		=	<u>3</u>	+	<u>1</u>	=	<u>4</u>
	+		=	_____	+	_____	=	_____
	+		=	_____	+	_____	=	_____

प्रश्न 7. आकृतियां गिनकर संख्या लिखें ।

 = 
 = 
 = 
 =

अध्यापक टिप्पणी .....

.....

.....

.....